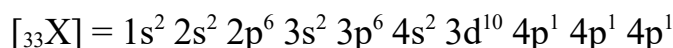
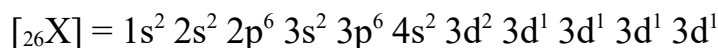
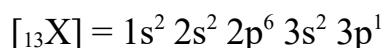
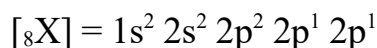
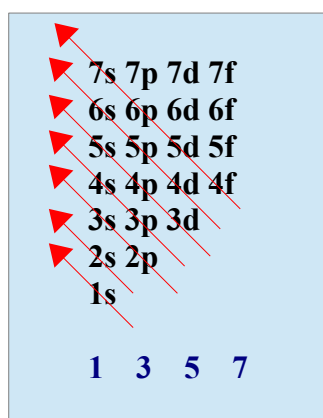


Problema0324: Para los elementos de números atómicos 8, 13, 26, 33. Indica razonadamente y sin usar la tabla periódica:

- a) Sus estructuras electrónicas.
b) Grupo y período al que pertenecen.

a)
Seguimos la regla de llenado de orbitales



b)
 $[{}_8X] = 1s^2 2s^2 2p^2 2p^1 2p^1$ Grupo 16 (Calcógenos o Anfígenos), ya que tiene cuatro electrones en los orbitales p ($2e^-s + 10e^-d + 4e^-p = 16$), y Período 2 como indica el número cuántico principal más alto.

$[{}_{13}X] = 1s^2 2s^2 2p^6 3s^2 3p^1$ Grupo 13 (Grupo del B), ya que tiene un electrón en los orbitales p ($2e^-s + 10e^-d + 1e^-p = 13$), y Período 3 como indica el número cuántico principal más alto.

$[{}_{26}X] = 1s^2 2s^2 2p^6 3s^2 3p^6 4s^2 3d^2 3d^1 3d^1 3d^1 3d^1$ Grupo 8 (Metales de transición), ya que tiene seis electrones en los orbitales d ($2e^-s + 6e^-d = 8$), y Período 4 como indica el número cuántico principal más alto.

$[{}_{33}X] = 1s^2 2s^2 2p^6 3s^2 3p^6 4s^2 3d^{10} 4p^1 4p^1 4p^1$ Grupo 15 (Grupo del nitrógeno), ya que tiene tres electrones en los orbitales p ($2e^-s + 10e^-d + 3e^-p = 15$), y Período 4 como indica el número cuántico principal más alto.