

Problema0454: Establece la geometría de las moléculas  $\text{BF}_3$  y  $\text{NH}_3$  mediante la teoría de repulsión de pares de electrones de la capa de valencia (TRPEV).

**$\text{BF}_3$**

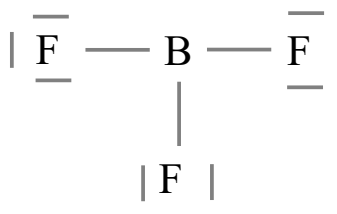
1º átomo central: B

2º  $\text{EN} = 6e^- \cdot 1(\text{B}) + 8e^- \cdot 3(\text{F}) = 30e^-$

3º  $\text{ED} = 3e^- \cdot 1(\text{B}) + 7e^- \cdot 3(\text{F}) = 24e^-$

4º  $\text{PE} = \frac{\text{EN} - \text{ED}}{2} = \frac{30 - 24}{2} = 3$  pares enlazantes

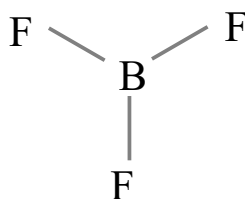
5º  $\text{PN} = \frac{\text{ED} - 2 \cdot \text{PE}}{2} = \frac{24 - 2 \cdot 3}{2} = 9$  pares no enlazantes



Según la TRPECV los pares electrónicos, ya sean enlazantes o no enlazantes, se distribuyen alrededor del átomo central de forma que las repulsiones sean mínimas.

Para tres pares alrededor del B la geometría que minimiza las repulsiones entre pares es la triangular plana con ángulos de  $120^\circ$ .

Para simplificar el esquema prescindimos de los pares no enlazantes sobre los átomos de F.



**$\text{NH}_3$**

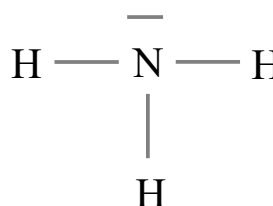
1º átomo central: N

2º  $\text{EN} = 8e^- \cdot 1(\text{N}) + 2e^- \cdot 3(\text{H}) = 14e^-$

3º  $\text{ED} = 5e^- \cdot 1(\text{N}) + 1e^- \cdot 3(\text{H}) = 8e^-$

4º  $\text{PE} = \frac{\text{EN} - \text{ED}}{2} = \frac{14 - 8}{2} = 3$  pares enlazantes

5º  $\text{PN} = \frac{\text{ED} - 2 \cdot \text{PE}}{2} = \frac{8 - 2 \cdot 3}{2} = 1$  par no enlazante



Según la TRPECV los pares electrónicos, ya sean enlazantes o no enlazantes, se distribuyen alrededor del átomo central de forma que las repulsiones sean mínimas.

Para cuatro pares alrededor del N la geometría que minimiza las repulsiones entre pares es la tetraédrica con ángulos de  $109,5^\circ$ . Los enlaces forman una estructura de pirámide triangular achatada.

Representamos con líneas los enlaces sobre el plano del papel, con cuña el enlace que sobresale del plano del papel, y con línea punteada el enlace que está detrás del plano del papel.

