

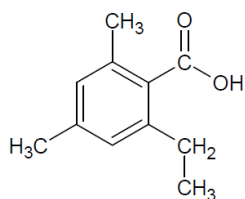
Problema920: Nombra los siguientes ácidos y ésteres:

<p>a)</p>	<p>b)</p>
<p>c)</p>	<p>d)</p>
<p>e)</p>	<p>f)</p>

<p>a)</p> <p>ácido 2-metilpent-3-enoico</p>	<p>Generación progresiva del nombre:</p> <p>pentano penteno ácido pentenoico ácido metilpentenoico</p> <p>↑ ↑</p> <p>2 3</p> <p>ácido 2-metilpent-3-enoico</p>
---	---

<p>b)</p> <p>ácido 4-etil-5-metilhexa-2,4-dienoico</p>	<p>Generación progresiva del nombre:</p> <p>hexano hexeno hexadieno ácido hexadienoico ácido etilmethylhexadienoico</p> <p>↑ ↑ ↑</p> <p>4 5 2,4</p> <p>ácido 4-etil-5-metilhexa-2,4-dienoico</p>
--	--

c)

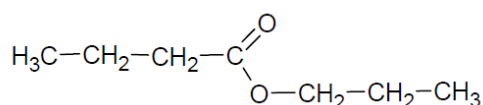


ácido 2-etil-4,6-dimetilbenzoico

Generación progresiva del nombre:

ácido benzoico
 ácido etildimetilbenzoico
 ↑ ↑
 2 4,6
 ácido 2-etil-4,6-dimetilbenzoico

d)

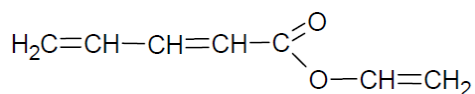


butanoato de propilo

Generación progresiva del nombre:

butano
~~ácido butanoico~~
 butano-ato
 butanoato de propilo

e)

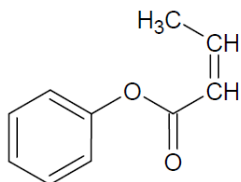


penta-2,4-dienoato de etenilo

Generación progresiva del nombre:

pentano
 penteno
 pentadieno
 pentadienoato
 pentadienoato de etenilo
 ↑
 2,4
 penta-2,4-dienoato de etenilo

f)



but-2-enoato de fenilo

Generación progresiva del nombre:

butano
 buteno
 butenoato
 butenoato de fenilo
 ↑
 2
 but-2-enoato de fenilo